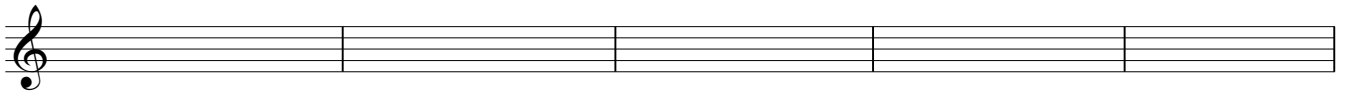


4º E.E. Teoría


NOMBRE _____ 4

1.- Clasifica e invierte estos intervallos:

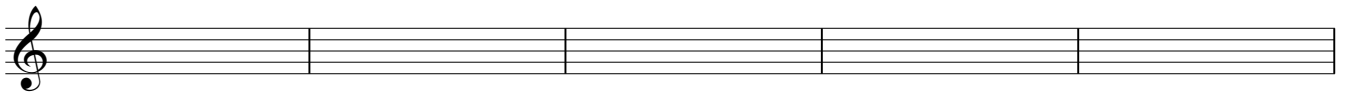




2.- A qué tonalidades corresponden estas armaduras:



3.- Dibuja las armaduras de estas tonalidades:



Mib Mayor

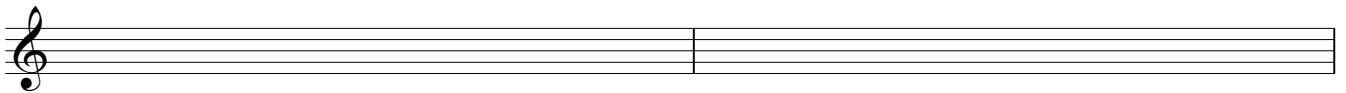
Mi menor

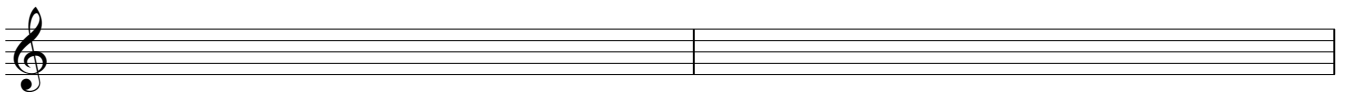
Mib menor

Fa Mayor

Fa# Mayor

4.- Dibuja los cuatro tipos de Sol Mayor. Indica el número al que corresponde cada uno.





5.- Dibuja los cuatro tipos de Si menor. Pon el nombre de cada uno de ellos.






6.- Dibuja los siguientes grados de La menor:




TÓNICA MEDIANTE SUBDOMINANTE DOMINANTE SENSIBLE

7.- Construye estos acordes:



P.M. P.m. 5ª Au. 5ª Dis. 7ª Dom.

8.- Clasifica estos acordes:



9.- Completa estos compases con figuras y silencios:




10.- Escribe estas notas en clave de Fa en 4ª línea. Recuerda que deben ser unísonos:

