




Ejercicios de teoría, 3º E.E.

NOMBRE _____


1.- Clasifica estos intervallos:



2.- Dibuja las armaduras de estas tonalidades:



3.- Indica a qué tonalidades corresponden estas armaduras:



4- Coloca las líneas divisorias:



5- Dibuja las escalas siguientes. Indica la Tónica (T) y la Dominante (D).

Fa M.

Sol M.



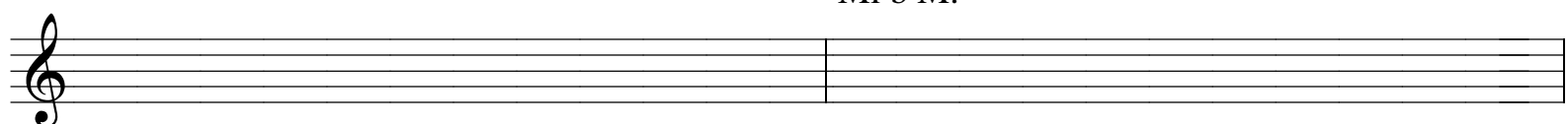
Re M.

Si b M.



La M.

Mi b M.



6.- Completa estos compases con figuras y silencios

