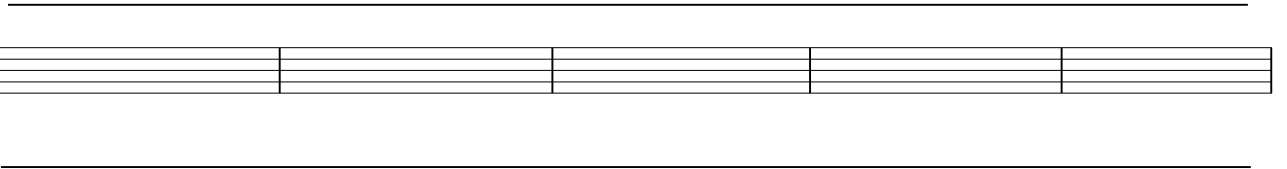



3º E.E. Teoría Vacaciones 2

NOMBRE _____


1.- Clasifica e invierte estos intervallos:



2.- A qué tonalidades corresponden estas armaduras:




3.- Dibuja las armaduras de estas tonalidades:



Re b Mayor Re menor Mi b Mayor Re Mayor Re # menor

4.- Dibuja los cuatro tipos de Si menor. Pon el nombre debajo de cada una de las escalas.



5.- Completa estos compases con figuras y silencios:

