



Teoría 2º E.E.

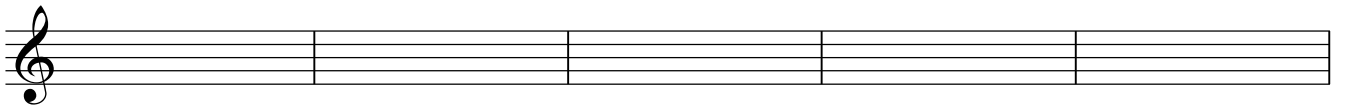
NOMBRE _____ 8

1- Clasifica e invierte estos intervallos:





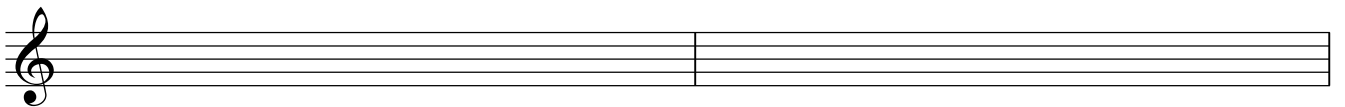




2.- Dibuja estas escalas, señala los semitonos, la Tónica(T) y la Dominante (D)

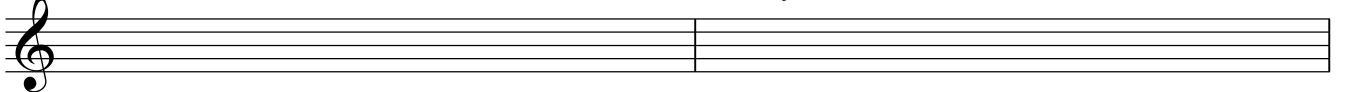
Mi b Mayor

Sol menor



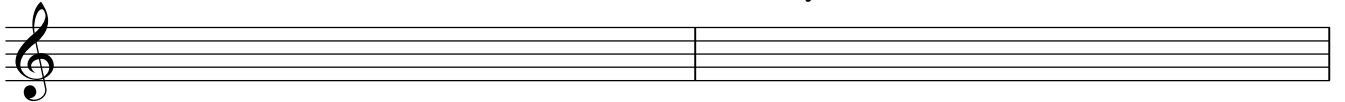
Fa # menor

Re Mayor



Si menor

La Mayor



3.- Completa estos compases con figuras y silencios:

4 a).- Escribe las tonalidades a las que corresponden estas armaduras:

4 b).- Dibuja las armaduras a las que corresponden estas tonalidades:

Sol Mayor Sol menor Re menor Re Mayor Sib Mayor

5.- Nombra estas notas en clave de Fa en 4ª línea:
