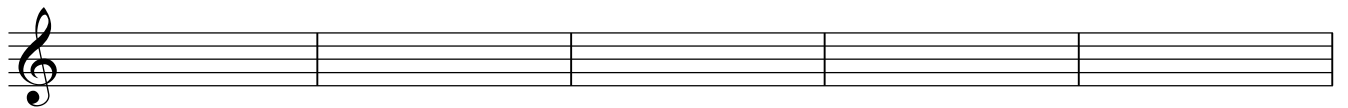



Teoría 2º E.E.


NOMBRE _____ 1

1- Clasifica e invierte estos intervallos:





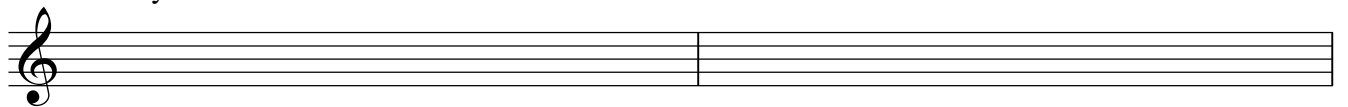




2.- Dibuja estas escalas, señala los semitonos, la Tónica(T) y la Dominante (D)

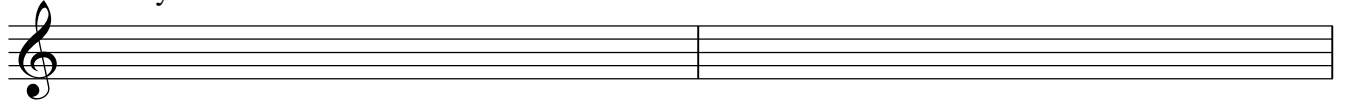
Do Mayor

La menor



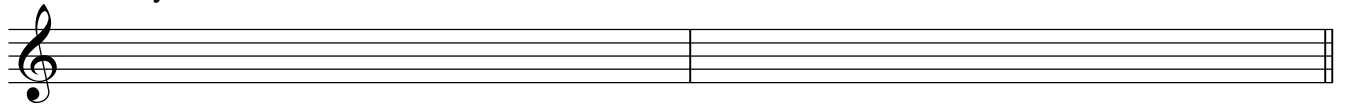
Sol Mayor

Mi menor



Fa Mayor

Re menor



3.- Completa estos compases con figuras y silencios:

4.- Escribe las tonalidades a las que corresponden estas armaduras, y las armaduras de estas tonalidades:

Mayor: _____ Si b Mayor Si menor La menor

menor: _____

5.- Nombra estas notas en clave de Fa en 4ª línea:
