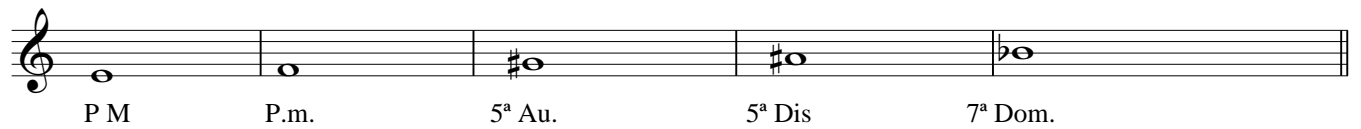


TEORÍA 1º EP Vacaciones

NOMBRE _____


5

1.- Construye e invierte estos acordes:



Musical staff with five chords: P M, P.m., 5ª Au., 5ª Dis, 7ª Dom.

2.- Clasifica estos acordes, e indica si están en estado fundamental o inversión:



Musical staff with five chords for classification.


3.- Transporta este fragmento un intervalo de: 3ª M desc.

Tonalidad: _____




Musical staff with a melodic fragment.

Tonalidad: _____




Empty musical staff for transcription.

4.- Construye y nombra las cadencias de Sol menor



Empty musical staff for cadences.

5.- Forma estos acordes en la posición que se indica:



Musical staff with chord positions: 6, 6/4, 7+, 6/4, 6.