

Teoría 1º EP



Semana del 16 al 22 de Marzo

NOMBRE: _____


1.- Transporta este fragmento un intervalo de 3ª Mayor descendente:

Tonalidad: 

2.- Dibuja la realización de estas notas de adorno:



3.- Dibuja estas notas en las diferentes claves:



4.- Construye las cadencias de: Re Mayor, indicando su nombre:

5.- Construye, nombra y clasifica los acordes de Si menor armónica:

I III IV V VII

6.- Clasifica los acordes siguientes. Indica su estado (fundamental o inversión).

7.- Forma los siguientes acordes en la posición que se te indica: