


# Teoría 2º E.E.

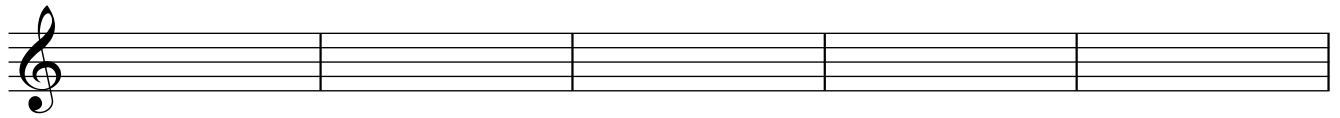
## Semana del 11 al 17 de mayo

NOMBRE \_\_\_\_\_


1- Clasifica e invierte estos intervallos:



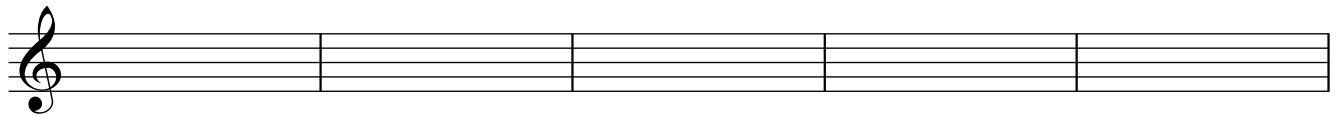
\_\_\_\_\_



\_\_\_\_\_




\_\_\_\_\_



\_\_\_\_\_


2.- Dibuja estas escalas, señala los semitonos, la Tónica(T), la Subdominate (SD) y la Dominante (D)

Do menor




T SD D

Si b Mayor



T SD D

Fa Mayor



T SD D

3.- Completa estos compases con figuras y silencios:

4 a).- Escribe las tonalidades a las que corresponden estas armaduras:

4 b).- Dibuja las armaduras a las que corresponden estas tonalidades:

Re menor      Do menor      La Mayor      Mi b Mayor      La menor

5.- Nombra estas notas en clave de Fa en 4ª línea: