


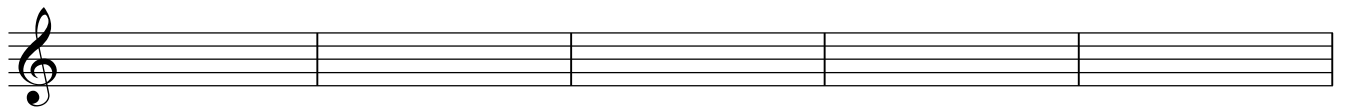



Teoría 2º E.E.

NOMBRE _____

4

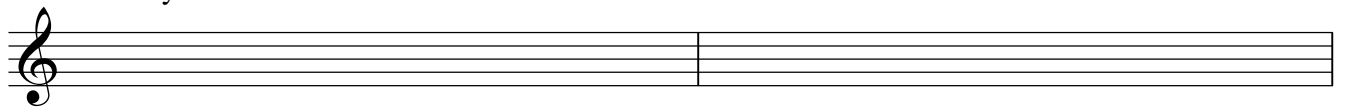
1- Clasifica e invierte estos intervallos:



2.- Dibuja estas escalas, señala los semitonos, la Tónica(T) y la Dominante (D)

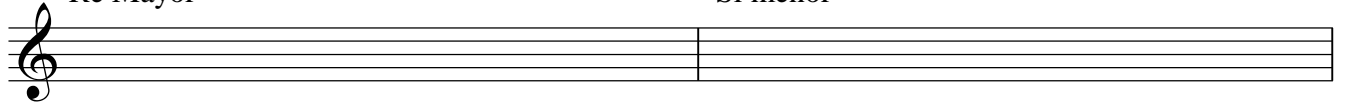
Sol Mayor

Mi menor



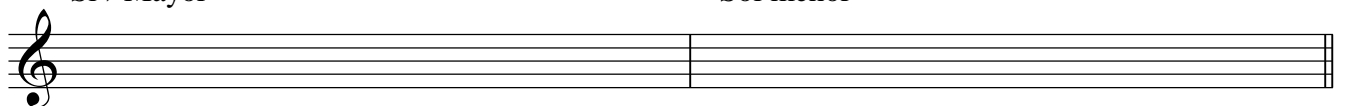
Re Mayor

Si menor



Si b Mayor

Sol menor



3.- Completa estos compases con figuras y silencios:

4.- Escribe las tonalidades a las que corresponden estas armaduras:

Mayor: _____

menor: _____

5.- Dibuja las armaduras a las que corresponden estas tonalidades:

Si b Mayor

Sol menor

Re menor

6.- Nombra estas notas en clave de Fa en 4ª línea:
