


1º EE Teoría

NOMBRE _____

1.- Completa estos compases con figuras y silencios:

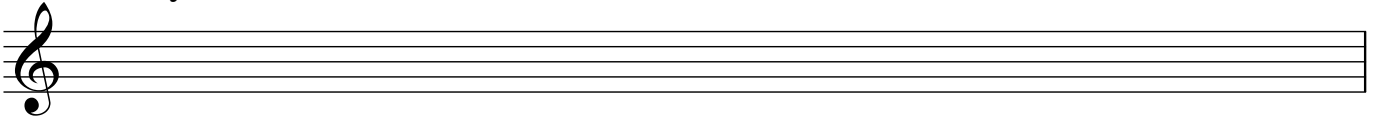


2.- Dibuja las líneas divisorias:

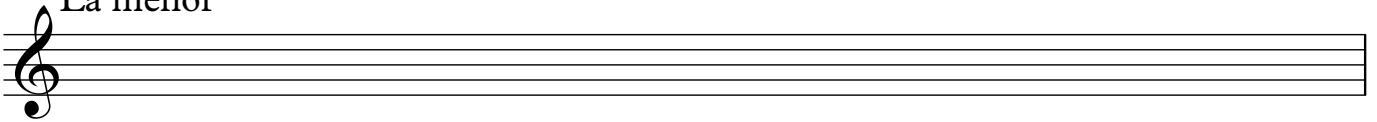


3.- Dibuja las escalas de Do Mayor y La menor.
Señala los semitonos, la Tónica (T) y la Dominante (D):


Do Mayor



La menor



4.- Escribe debajo de cada nota su nombre:



5.- Explica para qué sirven estos signos:

mf _____

b _____

pp _____