



# 1º EE Teoría

NOMBRE \_\_\_\_\_

1.- Completa estos compases con figuras y silencios:

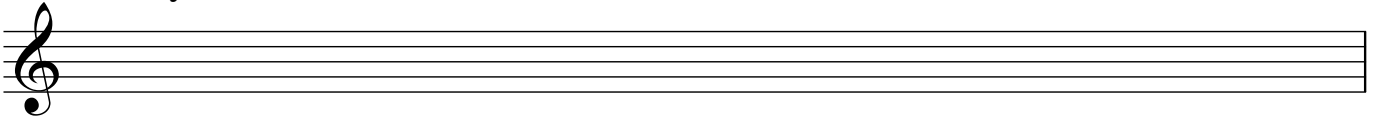


2.- Dibuja las líneas divisorias:

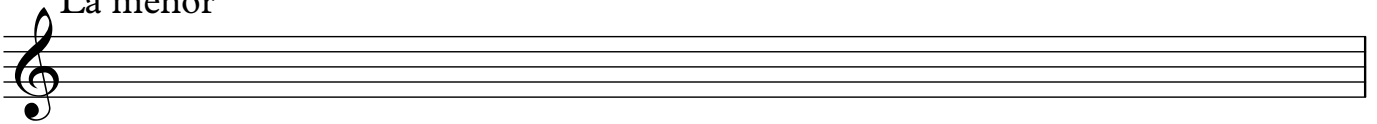


3.- Dibuja las escalas de Do Mayor y La menor.  
Señala los semitonos, la Tónica (T) y la Dominante (D):

Do Mayor



La menor



4.- Escribe debajo de cada nota su nombre:



\_\_\_\_\_



\_\_\_\_\_

5.- Explica para qué sirven estos signos:

*p* \_\_\_\_\_

*f* \_\_\_\_\_

# \_\_\_\_\_

b \_\_\_\_\_

*ff* \_\_\_\_\_