

# 1º EE Teoría


## Semana del 11 al 17 de mayo

NOMBRE \_\_\_\_\_

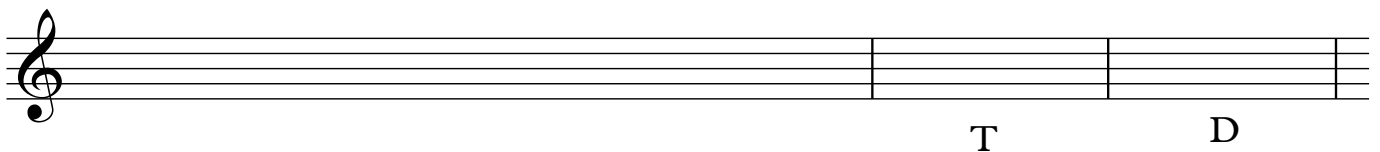
1.- Completa estos compases con figuras y silencios:




2.- Dibuja las líneas divisorias:




3.- Dibuja la escala de Do Mayor y señala sus semitonos, la tónica y la dominante:




4.- Dibuja la escala de La menor, señala sus semitonos, la Tónica y la Dominante:



5.- Copia en el pentagrama de debajo:



6.- Indica el número de cada intervalo y si es ascendente o descendente:




---




---